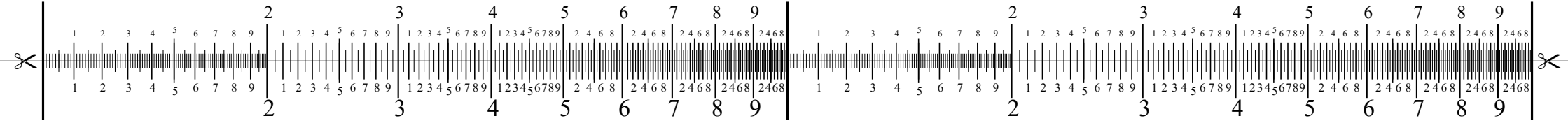


Rekenliniaal

Deel A

www.wiskunstelaar.nl



Snij of knip de liniaal over de lijn doormidden.

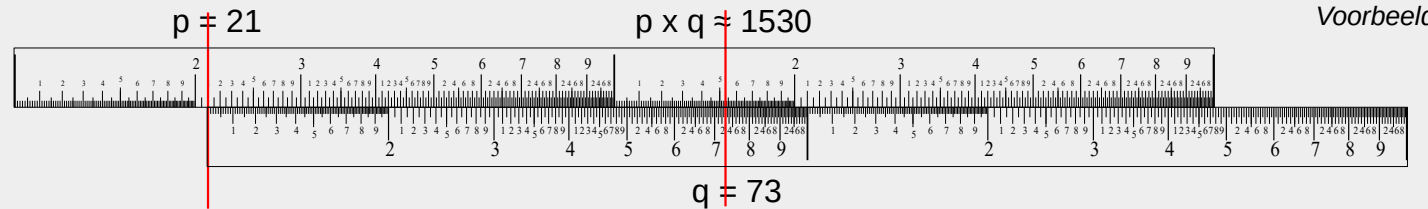
Deel B

Hoe bereken je $p \times q$?

Leg de meest linkse lijn van de strook B precies onder getal p op strook A.

Zoek op de strook B het getal q .

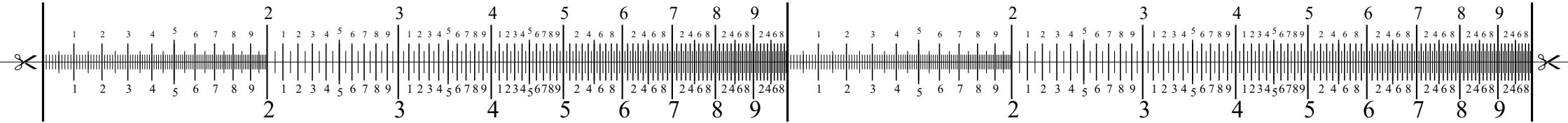
Precies daarboven, op strook A, vind je het product $p \times q$.



Rekenliniaal

Deel A

www.wiskunstelaar.nl



Snij of knip de liniaal over de lijn doormidden.

Deel B

Hoe bereken je $p \times q$?

Leg de meest linkse lijn van de strook B precies onder getal p op strook A.

Zoek op de strook B het getal q .

Precies daarboven, op strook A, vind je het product $p \times q$.

